

# ACCENDI LA MENTE!


(Classe prima)

Scegli tre dei numeri a tua disposizione per ottenere il risultato indicato. Ogni numero può essere usato una sola volta. Solo così riuscirai ad accendere la miccia e a far scoppiare i petardi.

2 5 4 3 1 6

$$\square + \square + \square = 7$$





3 5 4 1 0 2


$$\square + \square + \square = 4$$



6 2 9 1 7 5

$$\square + \square + \square = 8$$







6 4 2 5 1 3

$$\square + \square + \square = 6$$





Scopri il valore di ogni simbolo


$$= 8$$



$$=$$


$$= 3$$


$$=$$


$$= 4$$




$$=$$