

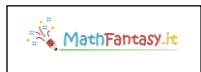
Il panettone A è costato € 11,70 e pesava il triplo del panettone B. Quanto è stato pagato il panettone B?



Il panettone A è costato € 11,70 e pesava il triplo del panettone B. Quanto è stato pagato il panettone B?



Il panettone A è costato € 11,70 e pesava il triplo del panettone B. Quanto è stato pagato il panettone B?




Il panettone A è costato € 11,70 e pesava il triplo del panettone B. Quanto è stato pagato il panettone B?




Il panettone A è costato € 11,70 e pesava il triplo del panettone B. Quanto è stato pagato il panettone B?



Il panettone A è costato € 11,70 e pesava il triplo del panettone B. Quanto è stato pagato il panettone B?



Il panettone A è costato € 11,70 e pesava il triplo del panettone B. Quanto è stato pagato il panettone B?



Il panettone A è costato € 11,70 e pesava il triplo del panettone B. Quanto è stato pagato il panettone B?



Il panettone A è costato € 11,70 e pesava il triplo del panettone B. Quanto è stato pagato il panettone B?