

















Sara e Giulia giocano a pari o dispari. Sara punta sul pari e Giulia sul dispari.

Chi vince? Quanti punti ha fatto in più? Chi perde? Quanti punti ha fatto in meno?

SARA	GIULIA
	
	
	
	
	
	
	
	

$3 + 2 = 5$ DISPARI

$1 + 5 = 6$ PARI

$2 + 4 = 6$ PARI

$4 + 1 = 5$ DISPARI

$5 + 5 = 10$ PARI

$0 + 3 = 3$ DISPARI

$3 + 4 = 7$ DISPARI

$5 + 0 = 5$ DISPARI

SARA (P)

XXX

GIULIA (D)

XXXXX

$5 - 3 = 2$ punti di differenza

Ha vinto Giulia, ha fatto 2 punti in più di Sara.

Ha perso Sara, ha fatto 2 punti in meno di Giulia.



L'esercizio viene presentato eseguito per mostrare l'attività svolta dai bambini. Segue la matrice

